

История
6 КЛАСС

Шифр участника И 304 62

Задания для обучающихся

Время выполнения заданий 45 минут.

Максимальное количество баллов 100

Задание 1. За каждый правильный ответ – 2 балла, максимальный балл задание – 16.
Верны ли следующие утверждения? («Да» - «Нет»). Ответы внесите в таблицу.

- Из охоты возникло земледелие, а их собирательства — скотоводство.
- Медь была первым металлом, из которого люди научились делать орудия труда.
- Первыми в истории человечества определили продолжительность года (365 суток) жители Древнего Египта.
- Фараон был верховным жрецом Египта.
- Самые крупные завоевания около 1500 года до н.э. совершил фараон Тутанхамон.
- Самая высокая пирамида фараона Хеопса.
- Благодаря учёным-жрецам Двуречья мы час делим на 60 минут, а окружность - на 360 градусов.
- Ассирийцы впервые широко стали использовать конницу.

Ответ:

1	2	3	4	5	6	7	8
Нет	Да	Да	Нет	Нет	Да	Нет	Да

Задание 2. Тестовые задания.

За каждый правильный ответ – 2 балла, максимальный балл за задание – 10.

2.1. Определите дату раздела Римской империи на Восточную Римскую империю и Западную Римскую империю.

- А) 330 год
 Б) 476 год
 В) 395 год

2.2. Когда произошла битва при Каппах.

- А) 216 год н.э.
 Б) 216 год до н.э.

История
6 КЛАСС

В) 261 год до н.э.

2.3. Как называлась школа в Афинах, где мальчики с 12 лет занимались гимнастикой.

- А) гимнасия
 Б) палестра
 В) скене

2.4. В какой стране был изобретён компас.

- А) Китай
 Б) Индия
 В) Франция

2.5. Что означает крылатое выражение «перейти Рубикон».

- А) переправиться на другую сторону
 Б) перейти реку в брод
 В) готовность к решительным действиям

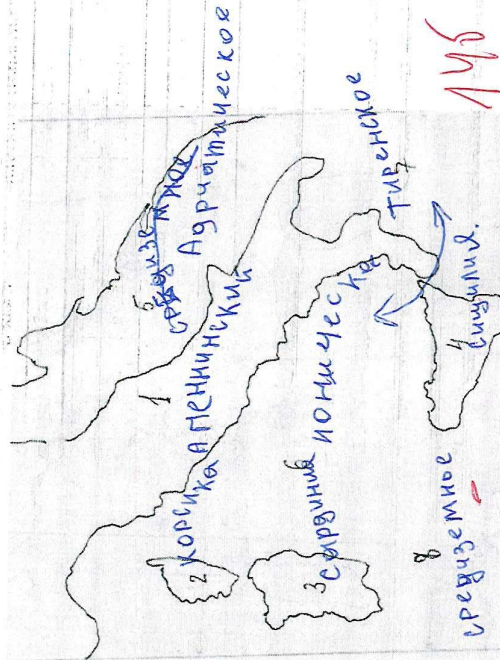
Ответ:

1.1.	1.2.	1.3.	1.4.	1.5.
Б	Б	А	А	Б

Задание 3. За каждый правильный ответ – 2 балла, максимальный балл задание – 18.

На контурной карте Древней Италии:

- Укажите название реки, на берегу которой основан город Рим и дату его основания;
- Рядом с цифрами напишите название полуострова и островов (Апеннинский, Сицилия, Сардиния, Корсика);
- Рядом с цифрами напишите название морей, омывавших Италию (Тирренское, Средиземное, Адриатическое, Ионическое), например: 8 – Средиземное.



Задание 4. За каждый правильный ответ – 2 балла, максимальный балл за задание – 8.

Установи соответствие между понятиями и их определениями.

1.	ветеран	А	«общественное дело»
2.	жрецы	Б	испытанный, опытный солдат в Риме
3.	демократия	В	служители бога
4.	республика	Г	«власть демоса»

Соответствующие буквы ответов внеси в таблицу.

1	2	3	4
Б	В	А	Г

Задание 5. За каждый правильный ответ – 2 балла. Максимальный балл за задание – 6.

В каждой строке выберите слово лишнее по смыслу, объясните почему.

1.	Зевс	Афина	Яхве	Деметра
2.	Тутмос	Хеопс	Тутанхамон	Урук
3.	буддизм	иероглифы	алфавит	кинлопись

1. Яхве – Бог египтян.

2. Урук – город в Месопотамии.

3. Буддизм – религия.

Задание 6. За каждый правильный ответ – 3 балла. Максимальный балл за задание – 21.

Прочитайте текст, в котором под цифрами обозначены пропущенные слова, выберите из списка, приведенного ниже нужные слова и впишите буквы под которыми они указаны в таблицу.

Много было интересных глиняных «книг» в библиотеках Древнего 1)

Но не было ни одной такой большой и богатой, как библиотека царя 2)

3) _____ . Царь умел читать древние 4) _____ , дорожил книгами и берет их от

5) _____ — чтобы они не размокли. Книги были самого разнообразного содержания:

по медицине, математике, сельскому хозяйству, религии, культуре и многие другие. После смерти царя вавилонские и мидийские 6) _____ ворвались во дворец и подожгли его,

вся библиотека рухнула вниз. Но книги не сгорели, а от 7) _____ стали еще крепче. Они были засыпаны пеплом, песком и землей и пролежали так более 2500 лет.

А) Ниневия

Б) Египет

В) сырость

Г) шумеры

Д) обжиг

Е) Вавилон

Ж) Ашшурбанапал

З) текст

И) войско

К) Хаммурапи

Ответ:

1	2	3	4	5	6	7
Б	Ж	А	З	В	И	К

Задание 7. За правильный ответ - 3 балла. Максимальный балл за задание - 3.

Используя ленту времени, ответьте на вопрос: Сколько лет прошло с момента объединения Китая под властью Цинь Шихуана до 2022 года? Ответ запишите цифрами.

Ответ: 1927 лет.

Задание 8. За каждый правильный ответ - 3 балла. Максимальный балл за задание - 18.

8.1. Перед вами плакат времен Великой Отечественной войны.



Какие исторические деятели и полководцы представлены на плакате?

Ответ: Сталин.

2. -

3. -


4. ~~Полководцы~~

8.1. Перед вами памятники, объединенные единой тематикой. Укажите название темы. Какой из памятников находится в Омске? Укажите цифру.


1.




2.



3.



4.



Ответ: Память Воин. 3 ф.

1.

65